

**Arahan:** Setiap soalan diikuti oleh empat pilihan jawapan, pilih satu jawapan yang betul.  
Jawab semua soalan.

1. Barangan yang berikut dibuat daripada logam zink, kecuali.....

- A) Baldi
- B) Atap rumah
- C) Kotak pensil
- D) Papan lapis

2. Lukisan projek mempunyai butiran yang berikut kecuali....

- A) Rupa bentuk projek
- B) Langkah-langkah membuat projek
- C) Bahan-bahan yang digunakan
- D) Ukuran bahagian-bahagian projek



3. Apakah kegunaan alatan tangan yang ditunjukkan di atas?

- A) Untuk mengerat batang keluli
- B) Untuk memotong kepingan kayu nipis
- C) Untuk melicinkan permukaan logam
- D) Untuk memotong kepingan logam nipis

4. Sikap suka mengubahsuaikan objek menjadi lebih baik dinamakan...

- A) Idea
- B) Aktif
- C) Kreatif
- D) Inovatif

5. Skru sesuai digunakan untuk mencantumkan bahan projek yang dibuat daripada...

- i) kayu
- ii) kertas
- iii) logam
- iv) plastic
- A) i dan ii
- B) ii dan iii

- C) I, iii, iv
- D) Ii, iii, iv

6. Antara yang berikut, sikap manakah yang mengakibatkan kemalangan di dalam bengkel?

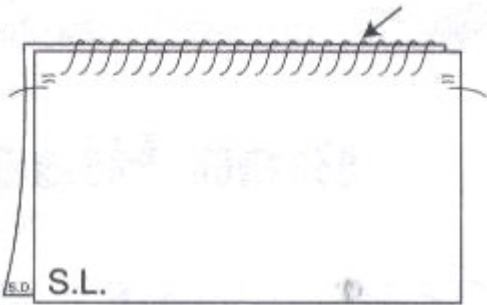
- A) Membersihkan bengkel setelah digunakan
- B) Memakai apron untuk mengelakkan pakaian kotor
- C) Membiarkan minyak tumpah diatas lantai
- D) Menyimpan alatan setelah digunakan

7. Bengkel yang selalu diselenggarakan akan kelihatan seperti berikut , kecuali...

- A) Kemas
- B) Kotor
- C) Bersih
- D) Teratur

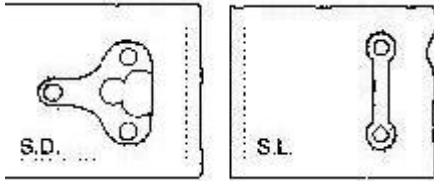
8. Alatan jahitan yang berikut dapat digunakan untuk menanggalkan jahitan mesin.

- A) Gunting
- B) Pisau lipat
- C) Jarum peniti
- D) Penetas jahitan



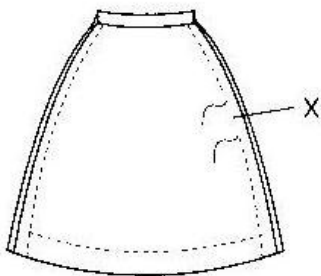
9. Apakah nama jahitan yang ditunjukkan dalam rajah di atas?

- A) Jahitan sembat
- B) Jahitan jelujur
- C) Jahitan lilit kemas
- D) Jahitan sembat susup



10. Apakah nama kancing dalam rajah di atas?

- A) Butang katup
- B) Cangkuk dan mata
- C) Cangkuk dan palang
- D) Cangkuk dan rumah

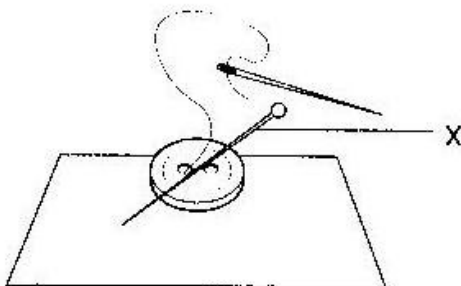


11. Apakah yang berlaku pada bahagian pakaian yang bertanda X?

- A) Kelim yang meretas
- B) Kelepet yang meretas
- C) Lapik yang meretas
- D) Belah yang meretas

12. Bilakah kelim yang meretas perlu dibaiki?

- A) Sebelum dicuci
- B) Sebelum dilipat
- C) Selepas dicuci
- D) Selepas diseterika



13. Berdasarkan rajah di atas, X adalah....

- A) Jarum jahit
- B) Jarum peniti
- C) Dawai
- D) tali

14. Antara barangan yang berikut yang manakah adalah barangan keperluan utama dalam kehidupan kamu?

- A) Makanan
- B) Barang permainan
- C) Permainan video
- D) Televisyen

15. Antara barangan yang berikut yang manakah **bukan** keperluan untuk hidup?

- A) Pakaian
- B) Tempat tinggal
- C) Makanan
- D) Kereta mewah

16. Barangan berikut merupakan barangan keperluan untuk belajar ketika di dalam bilik darjah **kecuali**

- A) Buku tulis
- B) Pensil
- C) Pemadam
- D) Majalah hiburan

17. Siapakah yang biasanya membelikan kamu barang-barang untuk memenuhi keperluan dan kehendak kamu?

- A) Guru besar
- B) Guru darjah
- C) Rakan-rakan
- D) Ibu bapa

18. Faktor yang manakah menentukan kemampuan murid untuk membeli barang keperluan dan kehendak mereka di sekolah?

- A) Pengaruh rakan sebaya
- B) Jumlah perbelanjaan yang didapati
- C) Jumlah barangan yang ada dijual
- D) Jumlah pelajar yang membeli

19. Ciri-ciri yang berikut menentukan jenis barang yang boleh dijual kepada murid-murid **kecuali**

- A) Barang yang disukai
- B) Barang yang mampu dibeli
- C) Barang yang diperlukan
- D) Barang yang hanya diimport

20. Peruncit mendapatkan bekalan barangan perniagaannya daripada

- A) Pembekal
- B) Pengguna
- C) Pembeli
- D) Pelajar

Peladang Penternak Pengilang
------------------------------------

21. Pekerjaan yang dinyatakan di atas terlibat dalam bidang

- A) Pengeluaran
- B) Pembuatan
- C) Perkilangan
- D) Pejabat

22. Siapakah yang membekalkan kamu hasil ladang seperti sayur-sayuran dan buah-buahan?

- A) Pekilang
- B) Penternak
- C) Peladang
- D) Pengguna

23. Penternak membekalkan kamu dengan hasil yang berikut **kecuali**

- A) Daging ayam
- B) Daging lembu
- C) Daging kambing
- D) Buah-buahan

24. Siapakah yang membekalkan barangan siap yang telah diproses kepada para pengguna?
- A) Penternak
  - B) Pengilang
  - C) Peladang
  - D) Penulis

Membeli barang dalam kuantiti yang banyak dan membekalkan barang dalam kuantiti yang kecil kepada peruncit

25. Siapakah yang berperanan seperti dalam pernyataan di atas?

- A) Pengguna
- B) Peruncit
- C) Pekedai
- D) Pemborong

26. Siapakah yang membeli barang niaga daripada pemborong dalam kuantiti yang sedikit?

- A) Pengguna
- B) Pemborong
- C) Peruncit
- D) Pelajar

27. Semua tempat berikut menjadi tumpuan ramai untuk membeli-belah **kecuali**

- A) Pasar malam
- B) Pasar borong
- C) Pasar raya
- D) Kedai runcit

28. Pemborong biasanya akan membeli barangan dalam bentuk \_\_\_\_\_ sebelum dihantar kepada peruncit.

- A) Kilogram
- B) Pukal
- C) Runcit
- D) Bungkus

29. Maklumat tentang barang niaga boleh kamu dapati daripada yang berikut:

- i Katalog
- ii Resit
- iii Bil
- iv Senarai harga

- A) i dan ii
- B) ii dan iii
- C) i dan iv
- D) iii dan iv

30. Antara yang berikut yang manakah adalah ciri-ciri seorang pembekal yang baik?

- i. Membekalkan barangan yang bermutu
- ii. Menawarkan harga yang berpatutan
- iii. Menjual secara kredit kepada peruncit
- iv. Mengutamakan keuntungan sahaja

- A) i, ii dan iii
- B) ii, iii dan iv
- C) i, iii dan iv
- D) i, ii, iii dan iv

31. Cara-cara yang berikut boleh dilakukan oleh seseorang peruncit untuk memesan barangan niaga daripada pembekal **kecuali**

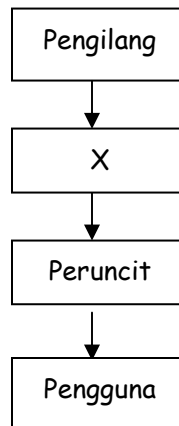
- A) Melalui telefon
- B) Melalui surat
- C) Pergi sendiri ke kilang
- D) Menunggu pembekal datang ke kedainya

32. Peruncit boleh mendapatkan maklumat tentang pembekal dengan cara-cara yang berikut:

- i. Halaman buku kuning
- ii. Dari peniaga lain
- iii. Dari katalog
- iv. Majalah atau surat khabar

- A) i, ii dan iii
- B) ii, iii dan iv
- C) i, iii dan iv
- D) i, ii, iii dan iv

33. Antara butiran yang kemungkinan berada di X ialah



- A) Peruncit
- B) Peladang
- C) Pemborong
- D) Pelajar

34. Apakah yang perlu dilakukan oleh seseorang peniaga sebelum ia menjual barangan niaganya?

- A) Memberi nama
- B) Menetapkan harganya
- C) Memberi secara percuma
- D) Menyimpan di dalam stok

35. Apakah tujuan seseorang peniaga menjual barangan niaga?

- A) Untuk mendapatkan sanjungan
- B) Untuk mendapatkan keuntungan
- C) Untuk mendapatkan pujian
- D) Untuk mendapatkan kurniaan

Kos barang = RM4.50 Kos upah = RM1.50
--

36. Kirakan harga jualan barang di atas jika peniaga ingin mendapatkan RM2.00 keuntungan daripada jualan barang di atas.

- A) RM4.50
- B) RM6.00
- C) RM7.00
- D) RM8.00



37. Cara yang berikut boleh digunakan oleh peniaga untuk menetapkan harga barangan untuk dijual.
- A) Berdasarkan rupa
  - B) Berdasarkan jenis barangan
  - C) Berdasarkan berat barangan
  - D) Berdasarkan jenamanya
38. Encik Rafael menjual sebuah kamus berharga RM5.50, ia membelinya dengan harga RM3.00, kirakan keuntungan yang diperoleh oleh Encik Rafael dari urus niaga tersebut.
- A) RM2.00
  - B) RM2.50
  - C) RM3.00
  - D) RM4.50
39. Di manakah seseorang peniaga boleh merekodkan jualan atau belian barang niaga di kedainya?
- i. Dalam komputer
  - ii. Surat khabar
  - iii. Buku akaun
  - iv. Buku latihan
- A) i dan ii
  - B) i dan iii
  - C) i dan iv
  - D) iii dan iv
40. Peniaga kecil-kecilan boleh memperoleh barangan niaga melalui
- i. Pembekal
  - ii. Menghasilkannya sendiri
  - iii. Daripada rakan-rakan
  - iv. Daripada ahli keluarga
- A) i dan ii
  - B) ii dan iii
  - C) i dan iv
  - D) iii dan iv

41. Antara yang berikut yang manakah **bukan** tujuan seseorang peniaga merekodkan jualan dan belian di kedainya?
- A) Menunjukkan perbelanjaan di atas belian
  - B) Mengetahui sama ada barangan yang dijual laris atau tidak
  - C) Dapat mengira keuntungan atau kerugian perniagaannya
  - D) Untuk menunjukkan sifat-sifat seseorang peniaga
42. Apakah yang perlu dilakukan oleh seseorang peniaga untuk mengelakkan kerugian semasa berlakunya beberapa risiko seperti kecurian dan kebakaran?
- A) Menutup perniagaannya
  - B) Mengambil insurans
  - C) Mengupah pekerja yang jujur
  - D) Jangan mengambil pekerja untuk membantunya
43. Antara yang berikut yang manakah **bukan** risiko yang dialami oleh seseorang peniaga?
- A) Kerosakan barang
  - B) Kenaikan harga barangan
  - C) Perubahan citarasa dan fesyen
  - D) Penyelewengan pekerja
44. Antara berikut yang manakah digunakan oleh peniaga untuk menetapkan harga sesuatu barangan yang dijual?
- i. Harga dari pesaing
  - ii. Harga kos pengeluaran
  - iii. Peratus keuntungan yang ingin diperoleh
  - iv. Harga yang ditetapkan oleh pengguna
- A) i, ii dan iii
  - B) ii, iii dan iv
  - C) i, iii dan iv
  - D) i, ii, iii dan iv
45. Antara yang berikut yang manakah **bukan** perasaan selesa?
- A) Bersyukur
  - B) Tersenyum
  - C) Menjerit
  - D) Membantu orang

Shafira mendapati ibu bapanya amat menyayangi adik bongsunya tetapi tidak mpedulikan dirinya.

46. Pada pendapat kamu, apakah perasaan yang mungkin dialami oleh Shafira?

- A) Gembira
- B) Cemburu
- C) Menghormati adiknya
- D) Benci

47. Apakah yang perlu dilakukan sekiranya alatan tangan di dalam bengkel hilang?

- A) Mendingankan diri
- B) Menggantikan dengan alatan yang baru
- C) Melaporkan kehilangan alatan itu kepada guru
- D) Menyiasat siapa yang mengambil alatan itu

48. Langkah pertama yang harus dilakukan apabila menggunakan alatan tangan untuk membuat sesuatu projek ialah....

- A) Melebelkan nama alatan
- B) Merancang dan memilih alatan
- C) Menggunakan alatan dengan betul
- D) Membersihkan dan meminyakkan alatan

49. Tujuan kerja menggilap dilakukan adalah untuk.....

- A) Melicinkan bahagian perabot
- B) Mengilatkan bahagian perabot
- C) Membersihkan bahagian perabot
- D) Mewarnakan bahagian perabot

50. Tujuan kerja meminyakkan bahagian perabot yang dapat digerakkan adalah untuk...

- I mengilatkan perabot
- II melicinkan pergerakan perabot
- III mencegah karat
- iv membersihkan perabot

- A I dan II
- B I dan III
- C I dan IV
- D II dan III

Jawapan

1D 2B 3D 4D 5C 6C 7B 8D 9C 10C 11A 12A 13B 14a 15D 16D 17D 18B 19D  
20A 21A 22C 23D 24B 25D 26C 27D 28B 29C 30A 31D 32D 33C 34B 35B 36D 37C 38B  
39B 40A 41D 42B 43C 44A 45C 46B 47C 48B 49B 50D